

# POČTY



## PRACOVNÍ SEŠIT



INVESTICE DO ROZVOJE VZDĚLÁVÁNÍ



Tento projekt je spolufinancován z Evropského sociálního fondu a státního rozpočtu České republiky.

Odborný tým pracovníků (speciální pedagog, logoped, krajská koordinátorka poruch autistického spektra, fyzioterapeut) Základní školy a Praktické školy SVÍTÁNÍ, o.p.s. se aktivně podílel na základě svých odborných zkušeností a poznatků z praxe na tvorbě pracovních listů a metodických příruček pro výuku čtení, psaní, počítání, tělesné výchovy, smyslové výchovy a věcného učení. Dále byl vytvořen metodický celek pro práci s žáky s poruchami autistického spektra a výukové programy pro práci s interaktivní tabulí.

Pracovní listy a metodické celky jsou určeny pro vzdělávání žáků v základní škole speciální a plně respektují individuální potřeby této cílové skupiny. Svým tématem zpracování a koncepcí nabízí učitelům metodický postup a hrové náměty při vzdělávání žáků v základní škole speciální.

## METODICKÉ POKYNY


S ohledem na individuální schopnosti žáků je v tomto pracovním sešitě dvojí značení úkolů:

-  složitější úkoly
-  jednodušší úkoly

Každý žák nemusí vypracovat všechny úkoly na všech stránkách.

# OBSAH

POČÍTÁNÍ PO DESÍTKÁCH DO 100 .....	3
ČÍSELNÁ ŘADA DO 100 .....	7
SČÍTÁNÍ DESÍTEK .....	18
ODČÍTÁNÍ DESÍTEK .....	22
SČÍTÁNÍ A ODČÍTÁNÍ JEDNOTEK BEZ PŘECHODU DESÍTEK .....	30
SČÍTÁNÍ A ODČÍTÁNÍ DVOJCIFERNÝCH ČÍSEL .....	38
PÍSEMNÉ SČÍTÁNÍ A ODČÍTÁNÍ .....	43
NÁSOBKY ČÍSLA 10 .....	48



😊 Přečti desítky. Opiš je na řádek.  
👉 Obtahuj obrázky čísel.

10 20 30 40 50 60 70 80 90 100

😊 Dopln a dopiš desítky.

👉 Obtahuj obrázky a hledej stejné obrázky čísel.

10		30				70			100
----	--	----	--	--	--	----	--	--	-----

	20		40		60		80		
				50				90	




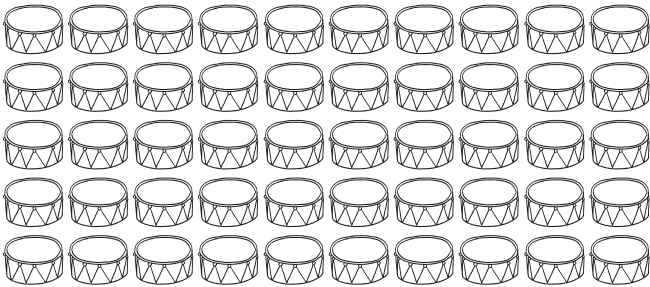


40		60
70		90
60		80
20		40
80		100
30		50


	70	
	20	
	50	
	40	
	90	
	60	






😊 Spočítej a napiš desítky.  
 🖐 Pojmenuj obrázky.







Vybarvi určený počet čtverečků.




70



100













90




80

☺ Seřad' desítky správně za sebou – spoj domečky cestičkou od 10 do 100. Domečky potom vybarvi.

✋ Obtahuj čísla vepsaná v domečcích.





Přečti desítky a napiš je.

10 deset –

20 dvacet –

30 třicet –

40 čtyřicet –

50 padesát –


60 šedesát –

70 sedmdesát –


80 osmdesát –


90 devadesát –

100 sto –



Počítej kuličky po jedné, pak po deseti.






😊 Doplň číselnou řadu.

👉 Dej do kroužku tato čísla: 16, 35, 38, 49, 69, 71, 83, 85, 98, 100.

1	2			5				9	10
11			14			17		19	
	22	23			26		28		
31		33		35		37		39	
	42		44		46		48		50
		53				57		59	
61				65					70
	72		74				78		
81				85				89	
91									100

Doplň číselnou řadu.

23	_____	25	15	_____	17	49	_____	51
58	_____	60	10	_____	12	28	_____	30
39	_____	41	8	_____	10	40	_____	42



Přečti čísla a ukaž stejně na počítadle.

82	37	41	99	12	66	20
----	----	----	----	----	----	----

Zakroužkuj číslo ve dvojici, které je větší.

37 57

18 12

14 39


21 42

37 73

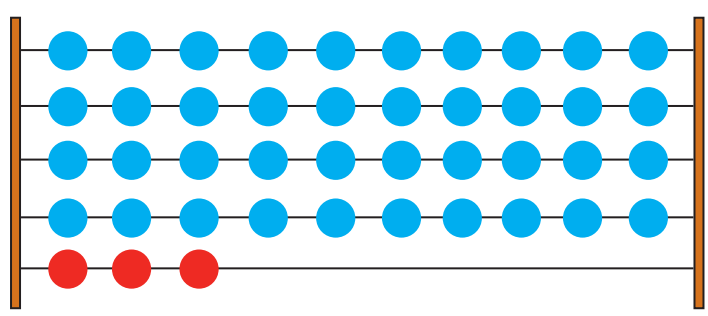
15 51

Doplň chybějící čísla.

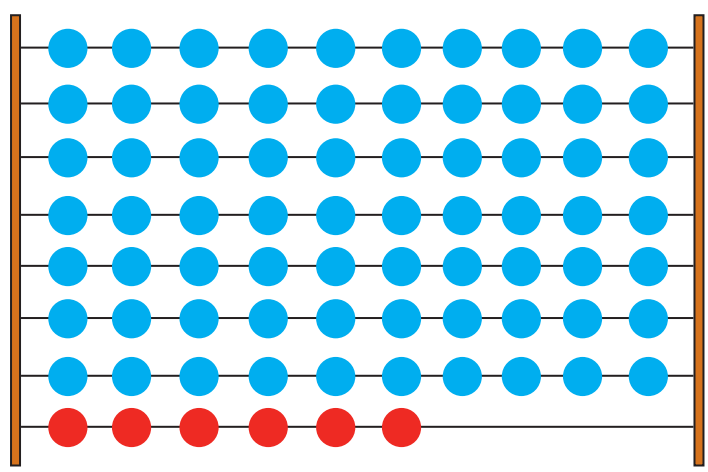
	31		33		35		37		
		42		44	45				49



Napiš, kolik kuliček je na počítadle.  
Přečti a ukaž na počítadle daná čísla.

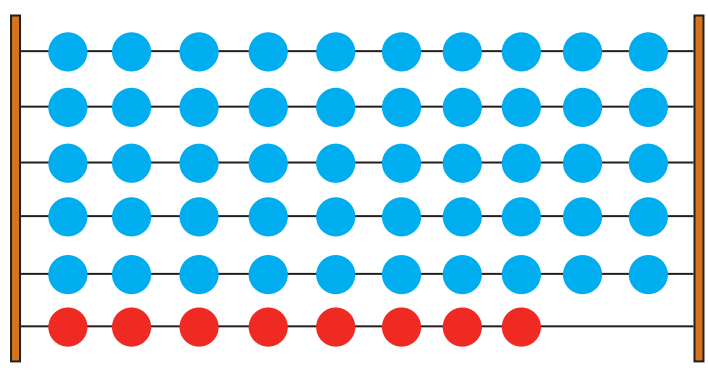


35



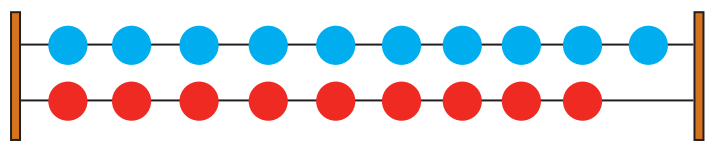
49

70



89

61



22